

Уважаемые родители! Для поддержания обратной связи прошу вас выполненные задания отправлять на электронную почту [artamonovatammara@yandex.ru](mailto:artamonovatammara@yandex.ru) . Тема письма – фамилия , имя ребенка и № группы. Эти задания (фото, скан, видео) нужно отправить не позднее 17 мая. 1а,2а,8,9,10 гр.

- 3 Зачеркни столько кругов, сколько опавших листьев. Придумай вопросы со словом "сколько". Сосчитай и раскрась. Придумай столько вопросов, чтобы вся картинка была раскрашена.



- 4 Расставь знаки по образцу:




- 5 Кто с кем разговаривает по телефону?




3 Раздели шарики поровну между подругами.




4\* Раскрась фигуры в таблице.



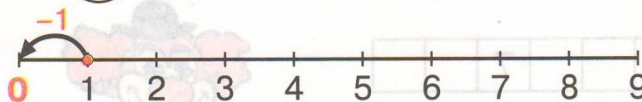
5 Нарисуй фигуры:



6 Продолжи рисовать шарики и раскрась их.



1 **0** 1 2 3 4 5 6 7 8 9



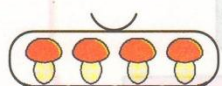


*Крулый ноль такой хорошенький,  
Но не значит ничегошеньки!*




На что похожа цифра ноль?

2 Расскажи, как всё было. Сколько морковок осталось у зайчика?

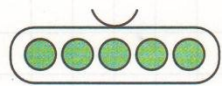

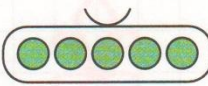


3 Верно ли фигуры разложены в мешки? Допиши равенства и объясни их:

 +  =        $4 + 0 = \square$

 +  =        $0 + 3 = \square$

 -  =        $2 - 2 = \square$

 -  =        $5 - 0 = \square$