

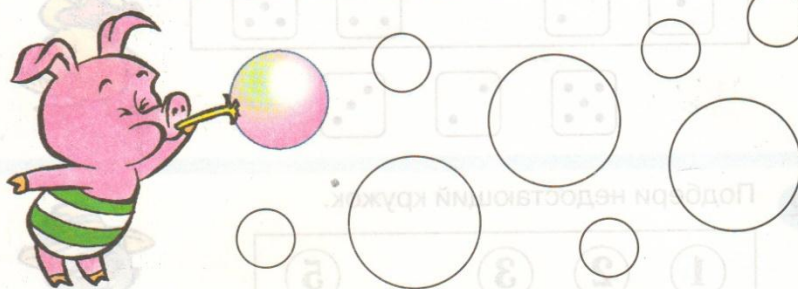
Уважаемые родители! Для поддержания обратной связи прошу вас выполненные задания отправлять на электронную почту artamonovatammara@yandex.ru. Тема письма – фамилия, имя ребенка и № группы. Эти задания (фото, скан, видео) нужно отправить не позднее 18 апреля.

1а,2а,8,9,10 гр


56 Занятие 28

Порядковый счёт

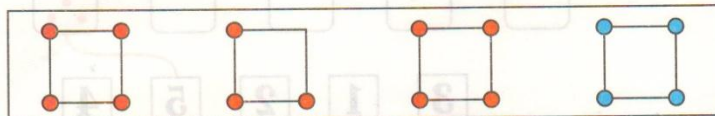
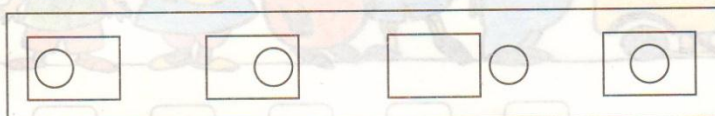
- 4 Раскрась маленькие пузыри голубым цветом, а большие – розовым. Каких пузырей больше, а каких – меньше: маленьких или больших?



- 5 Винни-Пух раскрашивает стенку домика. Помоги ему закончить работу.



- 6 Зачеркни лишнюю фигуру и объясни, почему она лишняя?



54 Занятие 27

СИМВОЛЫ


4* Нарисуй фигуры согласно обозначенным свойствам.

5 Помоги машине доехать до гаража. Сколько дорог ведут к гаражу? Нарисуй их разными карандашами.

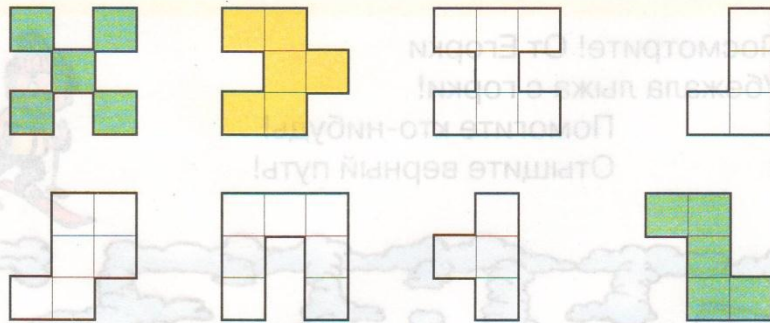
6 Раскрась вторую бабочку, считая справа, – красным цветом, пятую – жёлтым, а седьмую – синим. Какие по счету бабочки остались нераскрашенными?

44 **Занятие 23** *Площадь. Измерение площади*

1 Мальвина связала коврики для Буратино, Артемона и Пьеро. Чей коврик занимает больше места (бóльшую площадь)?



2 Закрась одним цветом фигуры, равные по площади.



3 Как ты думаешь, какая фигура больше по площади? Сравни, пересчитав число мерок.

