


Уважаемые родители! Для поддержания обратной связи прошу вас выполненные задания отправлять на электронную почту artamonovatammara@yandex.ru. Тема письма – фамилия, имя ребенка и № группы. Эти задания (фото, скан, видео) нужно отправить не позднее 24 мая.

Группы 1а,2-а,8,9,10


Повторение

Занятие 30 59

- 1 Одна картинка в каждом ряду недорисована. Найди и исправь ошибку.




- 2* Продолжи раскрашивать узор:





1 Сравни картинку и натюрморт. Всё ли правильно нарисовал художник?



2 Нарисуй вишни так, чтобы слева их было на одну меньше, чем посередине, а справа – на одну больше.

| | | |
|--|--|--|
| | | |
|--|--|--|

3 В пустых клетках поставь нужное количество точек.

| | | | | | |
|---|--|---|---|---|--|
| 1 | | 3 | 4 | | |
| | | 6 | | 8 | |



1

Сколько рук у поросёнка?
 Сколько ласт у индюшонка?
 Сколько гребней у гуся?
 Сколько ног у карася?



2

Допиши и дорисуй:

$1 + 0 = \square$ + =

$0 + 2 = \square$ + =

$3 - 0 = \square$ - =

$4 - 4 = \square$ - =

3

* Вставь вместо звёздочек, если возможно, знак "+" или "-". В каких случаях возможны различные варианты решения? Неверные равенства зачеркни.

$3 * 3 = 0$

$2 * 0 = 2$

$4 * 3 = 0$

$0 * 5 = 5$

$0 * 8 = 9$

$1 * 0 = 0$

$7 * 0 = 7$

$9 * 9 = 0$

$0 * 4 = 4$