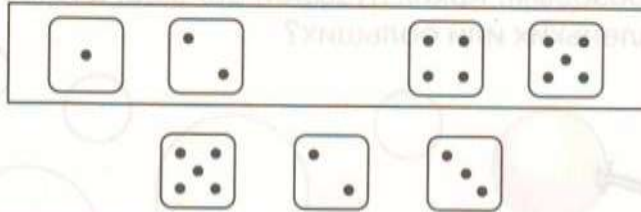


Уважаемые родители! Для поддержания обратной связи прошу вас выполненные задания отправлять на электронную почту [artamonovatammara@yandex.ru](mailto:artamonovatammara@yandex.ru). Тема письма – фамилия, имя ребенка и № группы. Эти задания (фото, скан, видео) нужно отправить не позднее 25 апреля. 1а,2а,8,9,10 гр

Порядковый счёт

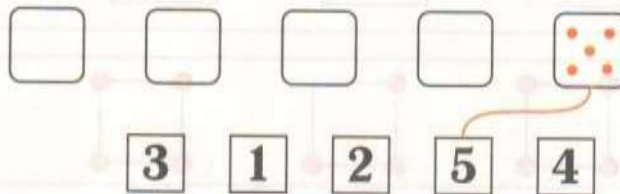
1 Какой кубик ты поставишь на свободное место?



2 Подбери недостающий кружок.



3 Друзья выстроились в очередь. Кто первый? Кто пятый? На каком месте стоит Винни-Пух? Поставь точки и проведи линии.



26,2в,11,12 гр.




1 Зачеркни квадратики, на которых обозначены свойства, не относящиеся к фигуре в центре.


2\* Выбери из указанных в таблице свойств те, что относятся к данной фигуре, и отметь их.

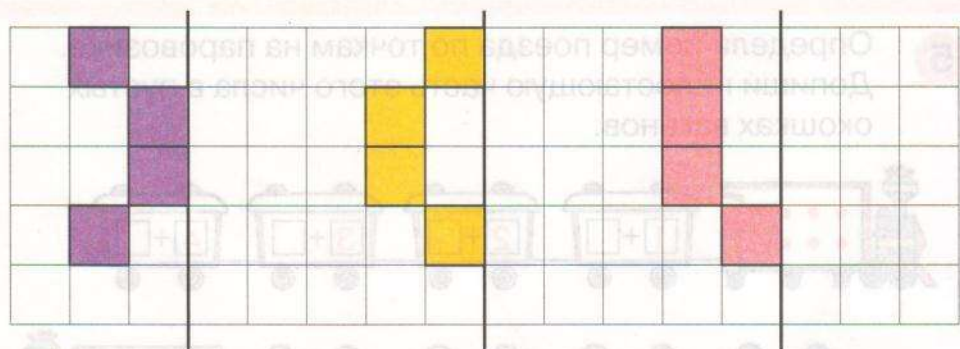
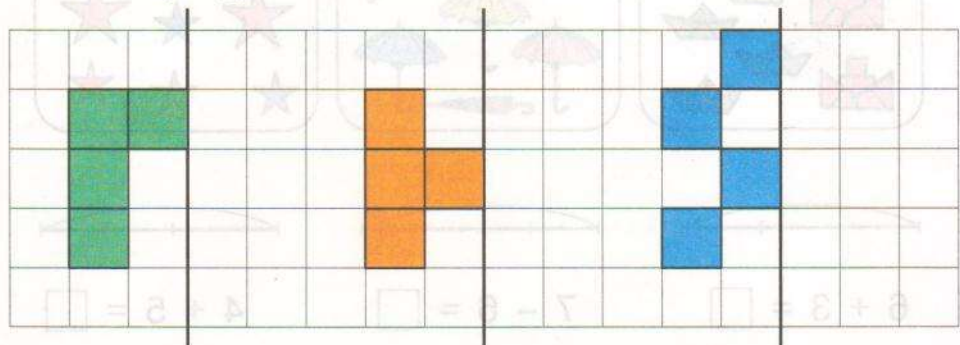




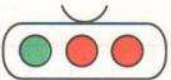
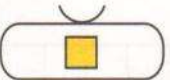



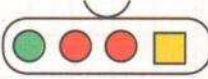



1  – квадрат-мерка (квадратный сантиметр).

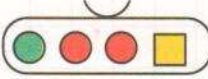
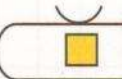

Игра: “Зеркало”. Дорисуй фигуры и сосчитай, сколько квадратов-мерок в каждой из них. Что общего во всех этих фигурах?



2 Допиши равенства. Что ты замечаешь?

 +  =       $3 + 1 = \square$

 -  =       $4 - 3 = \square$

 -  =       $4 - 1 = \square$

