


Уважаемые родители! Для поддержания обратной связи прошу вас выполненные задания отправлять на электронную почту artamonovatammara@yandex.ru. Тема письма – фамилия, имя ребенка и № группы. Эти задания (фото, скан, видео) нужно отправить не позднее 30 апреля.
1а,2а,8,9,10 гр

Порядковый счёт

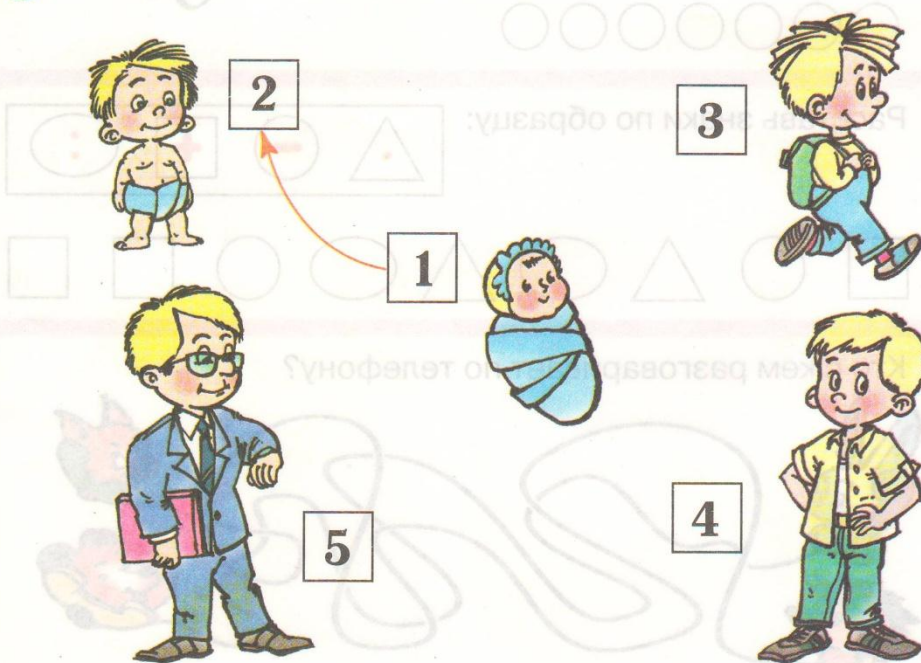
Занятие 29 57



1 Что было раньше, а что – потом? Проведи стрелки и поставь точки.



2 Расскажи, что за чем было. Проведи стрелки.





1 Нарисуй картинки, которые состоят из указанных фигур.

1	Ψ	△	1	Ψ	○	5	Υ	□	1	Ψ	△	1	Ψ	□	2	Υ	□
---	---	---	---	---	---	---	---	---	---	---	---	---	---	---	---	---	---



2 Сравни картинки. Что ты замечаешь? Что на картинках слева от мишки, а что справа? Что слева от девочки, а что справа? Раскрась на картинках мяч, который слева от мишки, в зелёный цвет, а тот, что справа – в красный.

8																				
4																				
2																				
6																				
7																				
8																				
9																				
10																				



3 Вставь пропущенные числа. Раскрась одинаковые полоски одним цветом.

	2	3			7	
--	---	---	--	--	---	--


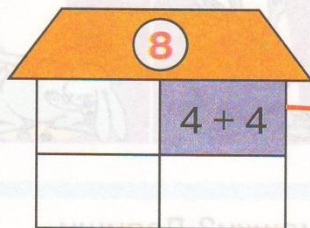
		7	6			2
--	--	---	---	--	--	---

1			5	6		
---	--	--	---	---	--	--

	8	7		4		
--	---	---	--	---	--	--



4 * Игра: "Строим домики".
Построй домики по образцу.



2+6

7+2

5+3

4+5

1+7

4+4

6+3

1+8

