



**Уважаемые родители!** Для поддержания обратной связи прошу вас выполненные задания отправлять на электронную почту **artamonovatammara@yandex.ru** . Тема письма – фамилия , имя ребенка и № группы. Эти задания (фото, скан, видео) нужно отправить не позднее 11 апреля.

**Группы 1а,2-а,8,9,10**




**Группы 2б,2в,11,12**







42 Занятие 22 Число 9. Цифра 9

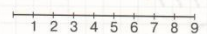

1 Составь пары и определи, кого больше и на сколько? Кого меньше и на сколько?



2 Дополни до девяти:

			
$7 + \square$	$5 + \square$	$6 + \square$	$8 + \square$

3 Проведи стрелки и запиши ответ:

	$9 - 3 - 4 = \square$
	$2 + 5 + 1 = \square$